

"De vacaciones con las matemáticas"



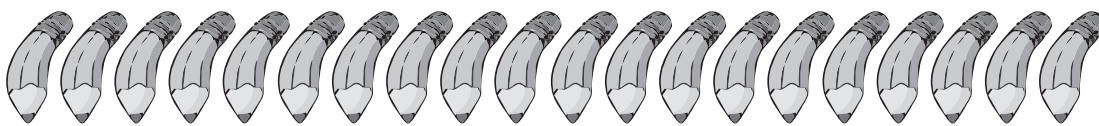
Nombre del establecimiento:

¿Cuál es tu nombre?

Curso: Fecha:

1) Ahora saca los elementos, marcándolos con una X.

a) Tengo 20 lápices y regalo 7, me quedan:



Tengo Sacamos Nos quedan

b) Tengo 9 regalos y entrego 8, me quedan:



Tengo Sacamos Nos quedan

c) Hay 16 niños, si se van 10, quedan:




Tengo Sacamos Nos quedan

"De vacaciones con las matemáticas"


2) Completa.

a)




En un corral hay 20 ovejas, pinta 12,
¿Cuántas ovejas quedan sin pintar?

b)



Camila está juntando caracoles, tiene 11 y ahora encontró 8 más.
¿Cuántos caracoles tiene en total? Dibuja los que faltan.

c)



Constanza tiene 6 gatitos y nacieron 6 más.
¿Cuántos gatitos tiene ahora?..... Dibuja los que faltan.

d)



En ésta villa hay casas y árboles.
¿Cuántos elementos hay en total?


"De vacaciones con las matemáticas"

e)



Tengo monedas, si compro un dulce con 10 monedas, ¿Cuántas monedas me quedan?.....

f)



Tengo relojes, le sumo más, me quedan , regalo 2 entonces ..¿Cuántos relojes tengo ahora?

¿Qué aprendí hoy?

1.- Resuelve.

a)


Tengo **8** Sacamos **2** Nos quedan

b)



En la selva se reúnen 7 monos, luego llegarán 5 más que están invitados. ¿Cuántos monos habrá en la reunión?..... Dibuja los que faltan.

c)



Tengo monedas, más , ¿Cuántas monedas tengo?