

# "De vacaciones con las matemáticas"



Nombre del establecimiento: .....

¿Cuál es tu nombre? .....

Curso: ..... Fecha: .....

1) Une con una línea el numeral con las manos que corresponde:



8



6

5



7





9

10



2) Sumar:

a) ¿Cuántos soles hay en cada grupo?




+

b) ¿Cuántos soles hay en total?




# "De vacaciones con las matemáticas"

3) Pinta y anota la cantidad de elementos que hay en el dibujo:



- |  |             |             |
|--|-------------|-------------|
| a) ¿Cuántos baldes hay?                | - Hay ..... | baldes.     |
| b) ¿Cuántas palas hay?                 | - Hay ..... | palas.      |
| c) ¿Cuántas niñas hay en la playa?     | - Hay ..... | niña.       |
| d) ¿Cuántos quitasoles hay?            | - Hay ..... | quitasoles. |
| e) ¿Cuántas estrellas de mar hay?      | - Hay ..... | estrellas.  |
| f) ¿Cuántos veleros se ven?            | - Hay ..... | veleros.    |
| g) ¿Cuántos cangrejos hay en la playa? | - Hay ..... | cangrejo.   |
| h) ¿Cuántas nubes hay?                 | - Hay ..... | nubes.      |

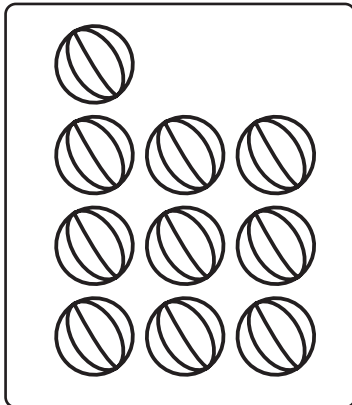
4) Observa, dibuja y completa.

a)	Tengo	Agrego	Ahora tengo
			

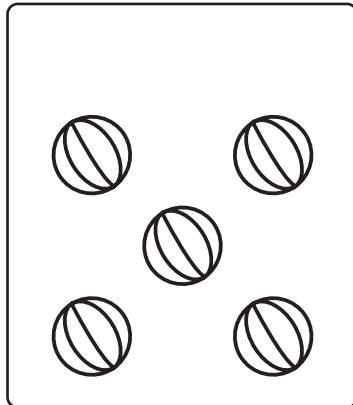
..... mas ..... es igual a .....

# "De vacaciones con las matemáticas"


b) Tengo



Agrego

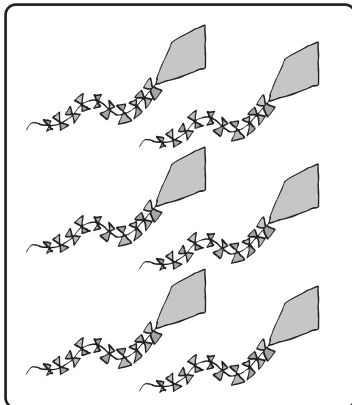


Ahora tengo




..... mas ..... es igual a .....


c) Tengo



Agrego




Ahora tengo




..... mas ..... es igual a .....


d) Tengo



Agrego




Ahora tengo




..... mas ..... es igual a .....

# "De vacaciones con las matemáticas"



e) **Tengo** **Agrego** **Ahora tengo**











..... mas ..... es igual a .....

5) Representa con lápices las siguientes situaciones y completa.

Tengo 6  Agrego 6  Ahora tengo .....

Tengo 5  Agrego 5  Ahora tengo .....

Tengo 7  Agrego 7  Ahora tengo .....

Tengo 6  Agrego 6  Ahora tengo .....

# "De vacaciones con las matemáticas"


¿Qué aprendí hoy?

1.- Une con una línea según corresponda:




2.- Completa.


Tengo 10



Agrego 6




Ahora tengo .....



Tengo 12



Agrego 5



Ahora tengo .....



Tengo 23



Agrego 1



Ahora tengo .....

